



6. Kovács Tomiék téglalap alakú kertjének az utca felé eső oldala 68 méteres. A kert másik három oldalán kicserélik a drótkerítést. Ehhez 352 méter kerítésdrótra van szükség. Mekkora a kert oldalai? Rajzolj!




7. Ha egy bolhaugrás 7 és fél szöcskeugrás, és 3 szöcskeugrás 2 macskaugrással egyenlő, akkor 10 macskaugrás hány bolhaugrás?



8. Egy vándor megkérdezi a diákokat: Hányan vagytok az iskolában?

A diák így felelt: Kétszerezd meg a számunkat, szorozd meg ezután hárommal és az eredményt oszd el négygel, ha az eredményhez engem is hozzászámolsz, éppen százat kapsz.

Hány diák volt az iskolában?




9. Egy gólyát egy fecskére és két galambra lehet elcserélni, míg két fecskét egy gólyára és egy galambra.



a) Hány galambért lehet elcserélni egy fecskét?

b) Hány galamb ér egy gólyát?



Elért pontszám:

Javította: